

ASIAN MATHS OLYMPIAD 2015 CONTEST

Grade 2

1. What is the middle number in between 21 and 47?

*Tìm số ở giữa số 21 và 47?*

- A) 31                      B) 32                      C) 34                      D) 33                      E) 35

.....  
.....  
.....

2. In the addition below, what do “C” and “D” represent?

*Dựa vào phép cộng bên dưới, “C” và “D” đại diện cho những số nào?*

$$\begin{array}{r} 17 \\ + \text{C D} \\ \hline 82 \\ \hline \end{array}$$

- A) 7, 5  
B) 6, 5  
C) 5, 6  
D) 7, 4  
E) 6, 6

.....  
.....  
.....

3. Sandra was 16 minutes earlier for school which starts at 7.25am. What time did she arrive?

*Sandra đến trường sớm hơn 16 phút khi buổi học bắt đầu lúc 7 giờ 25 sáng. Hỏi cô ấy đến lúc mấy giờ?*

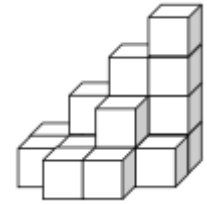
- A) 7.11am              B) 7.41am              C) 7.10am              D) 7.09am              E) 7.12am

.....  
.....  
.....

4. How many cubes are there?

Có bao nhiêu khối lập phương trong hình?

- A) 17                      B) 19                      C) 16                      D) 18                      E) 13



.....

.....

.....

5. What is the difference between the smallest three digit number and the largest two digit number?

Hiệu giữa số nhỏ nhất có ba chữ số và số lớn nhất có hai chữ số là bao nhiêu?

- A) 1                      B) 199                      C) 90                      D) 9                      E) 10

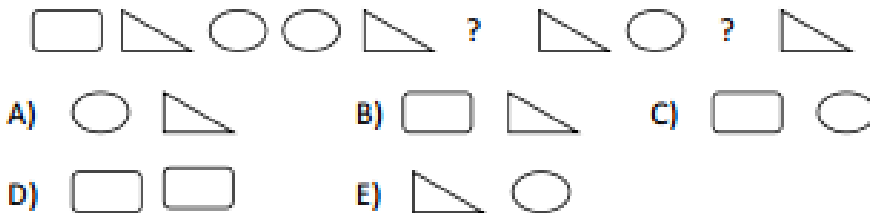
.....

.....

.....

6. What are the missing shapes?

Điền những hình còn thiếu?



.....

.....

.....

7.  $( ) + 26 = 95 - 39$

What number should be filled in the blanks?

Số nào cần điền vào ô trống?

- A) 69                      B) 56                      C) 30                      D) 29                      E) 40

.....

.....

.....

**8.** What is the missing number?

*Số còn thiếu là số nào?*

2, 6, 14, \_\_\_\_\_, 62, 126

A) 32                      B) 28                      C) 30                      D) 40                      E) 36

.....  
.....  
.....

**9.** How many hours are in two and a half day?

*Hai ngày và một nửa ngày là bao nhiêu giờ?*

A) 3                      B) 12                      C) 48                      D) 24                      E) 60

.....  
.....  
.....

**10.** What is the greatest number you can fill in ?

*Tìm số lớn nhất để điền vào ô trống?*

$8 + \text{_____} < 64$

A) 48                      B) 39                      C) 56                      D) 55                      E) 60

.....  
.....  
.....

**11.** I am 39. What do you get after subtract my both digits?

*Tôi là số 39. Lấy 2 chữ số của tôi trừ cho nhau được bao nhiêu?*

A) 6                      B) 8                      C) 12                      D) 7                      E) 5

.....  
.....  
.....

**12.**



A book has 12 pages. How many pages does 7 books have?

Một cuốn sách có 12 trang. Hỏi 7 cuốn sách có bao nhiêu trang?

- A) 12                      B) 84                      C) 70                      D) 19                      E) 80

.....  
.....  
.....

**13.** Sammy feeds 2 turtles, 1 spider, 2 cats and 3 parrots as her pet. What is the sum of the legs of her pet?

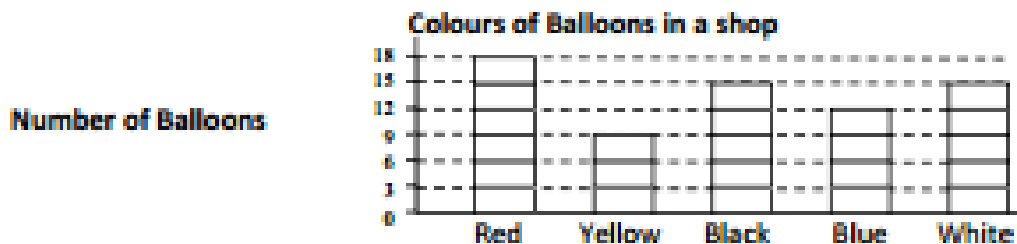
Sammy nuôi 2 con rùa, 1 con nhện, 2 con mèo và 3 con vẹt làm thú cưng của mình.

Tổng số chân của con vật cưng của cô ấy là bao nhiêu?

- A) 28                      B) 30                      C) 32                      D) 25                      E) 26

.....  
.....  
.....

**14.**



Alice bought red and black balloons. How many balloons did she buy?

Alice đã mua những quả bóng bay màu đỏ và đen. Cô ấy đã mua bao nhiêu quả bóng bay?

- A) 18                      B) 33                      C) 27                      D) 30                      E) 32

.....  
.....  
.....

15. Abdullah is heavier than Samuel. Elliot is heavier than Samuel but lighter than Abdullah. Bryan is heavier than both Elliot and Abdullah but lighter than Faymen. Who is the heaviest?

*Abdullah nặng hơn Samuel. Elliot nặng hơn Samuel nhưng nhẹ hơn Abdullah. Bryan nặng hơn cả Elliot và Abdullah nhưng nhẹ hơn Faymen. Hỏi ai là người nặng nhất?*

- A) Faymen                      B) Bryan                      C) Abdullah                      D) Elliot                      E) Samuel

.....

.....

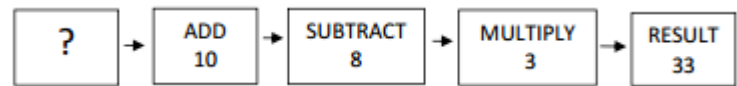
.....

.....

.....

.....

16.



What number should be filled in the “?” box in order to obtain 33 as the result?

*Số nào nên được điền vào dấu “?” để có được kết quả là 33?*

- A) 8                      B) 12                      C) 10                      D) 9                      E) 11

.....

.....

.....

17. Suppose the time is now 10 o’clock at night. What time will it show after 21 hours from now?

*Giả sử bây giờ là 10 giờ đêm. Sau 21 giờ kể từ bây giờ nó sẽ hiển thị mấy giờ?*

- A) 7am                      B) 6pm                      C) 7pm                      D) 8pm                      E) 6am

.....

.....

.....

**18.** Muhamad was born in year 2002. He is 20 years old younger than his mother. How old is his mother this year?

*Muhammad sinh năm 2002. Anh kém mẹ 20 tuổi. Hỏi mẹ anh ấy năm nay bao nhiêu tuổi?*

- A) 33                      B) 20                      C) 13                      D) 15                      E) 30

.....  
.....  
.....

**19.** 10 apples have the same mass as 1 watermelon and 2 pear. 1 pear has the same mass as 2 apples. How many apples have the mass of 1 watermelon?

*10 quả táo có cùng khối lượng với 1 quả dưa hấu và 2 quả lê. 1 quả lê có cùng khối lượng với 2 quả táo. Có bao nhiêu quả táo có khối lượng bằng 1 quả dưa hấu?*

- A) 6                      B) 4                      C) 8                      D) 5                      E) 2

.....  
.....  
.....

**20.** I am reading a book. The product of both current pages is 110. What is the sum of the both pages?

*Tôi đang đọc một quyển sách. Tích của cả hai trang hiện tại là 110. Tổng của cả hai trang là bao nhiêu?*

- A) 10                      B) 21                      C) 11                      D) 27                      E) 20

.....  
.....  
.....  
.....  
.....  
.....